

< 範圍：課本第10~31、38~41頁 >

【劃卡代號：52】

班級：

座號：

姓名：

參考範例：

※答案卡限用 2B 鉛筆劃記，答案請劃記明確；若有劃記錯誤，請擦拭乾淨。分數以電腦讀卡分數為準。

※請作答於答案卷上，考試完畢僅繳交答案卷，請不要填錯格。

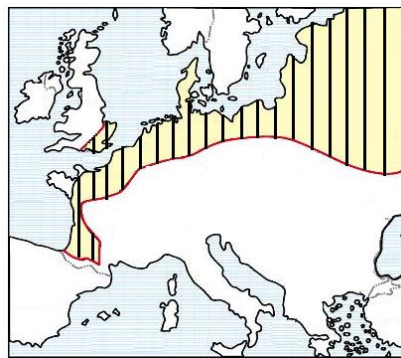
一、選擇題(第 1~20 題每題 3 分，第 21~30 題每題 4 分，滿分 100)

1. 下列有關歐洲位置與範圍的敘述，何者正確？

- (A) 全境皆位於東半球及北半球
- (B) 以烏拉爾山及高加索山與亞洲為界
- (C) 東臨大西洋，南隔地中海與非洲相望
- (D) 0° 經線通過法國巴黎，與臺灣時差 8 小時

2. 右圖線條部分為歐洲某地形分布範圍，下列關於該地形的敘述何者正確？

- (A) 少地形阻隔，西風帶來的水氣可深入內陸
- (B) 地處板塊交界，多火山、地震且地表崎嶇
- (C) 多數河流由南往北入海，水運較陸運發達
- (D) 地勢平坦，故歐洲族群、語言單純少紛爭



3. 中國東南沿海的海岸線曲折多港灣，這是因原靠近海岸的山地、丘陵受海水面相對上升影響，淹沒原有谷地，形成深闊的海灣。依上文描述判斷，下列何處的海岸類型與中國東南沿海最相似？

- (A) 臺灣南部沿海 (B) 北歐挪威沿海
- (C) 孟加拉恆河口 (D) 南歐希臘沿海

※右圖為歐洲一月等溫線分布圖，請參考右圖回答第 4~5 題：

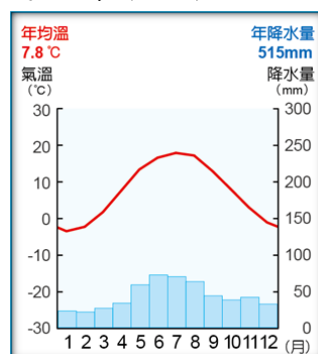
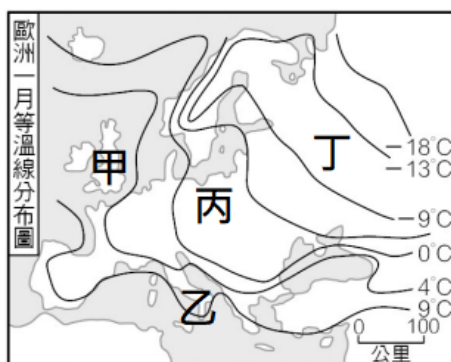
4. 造成各地氣溫差異的主因為何？

- (甲) 暖流流經
- (乙) 西風吹拂
- (丙) 距海遠近
- (丁) 地勢高低

- (A) 甲乙 (B) 甲丙 (C) 乙丙 (D) 丙丁

5. 下列關於圖中甲區氣候特色的敘述，何者正確？

- (A) 當地氣候圖如右圖
- (B) 降水量、氣溫、氣壓及植被皆呈垂直變化
- (C) 全年濕涼，居民常穿著可防水的風衣外套
- (D) 生長季與雨季無法配合，以灌溉農業為主



※2015 年時，穿越「歐洲屋脊」的貨運總量(包含公路和地上與地下鐵路)約有 3900 萬噸，為提升南歐與西歐間的人流與物流，瑞士耗費 17 年終於開通世界最深、最長的聖哥達基線隧道。

該隧道通車後估計每日旅運量將較之前增加六成有餘，可大幅縮短從瑞士蘇黎世到義大利米蘭的車程，提升荷蘭鹿特丹、比利時安特衛普連接亞得里亞海熱內亞港之貨運列車承載量。

時任德國總理梅克爾盛讚這項工程為歐洲一體化的「記號」，雖然瑞士並非「甲組織」成員，但該隧道的完工，仍對加強「甲組織」整合具有重大象徵意義。請參考上文並回答第 6~10 題：

6. 上文提及的「歐洲屋脊」所指為何？

- (A) 喀爾巴阡山 (B) 庇里牛斯山 (C) 阿爾卑斯山
- (D) 基阿連山

7. 聖哥達基線隧道通車前，貨運多以地上路線為主，其地上路線多是利用何種地形開闢而成？

- (A) 冰河堆積而成的平原 (B) 冰河侵蝕而成的 U 型谷
- (C) 河川沖積出的沖積扇 (D) 河川侵蝕而成的 V 型谷

8. 上文提及的「甲組織」所指為何？

- (A) (B) (C) (D)



9. 下列有關「甲組織」促進歐洲一體化的內容，何者正確？

- (A) 需成為該組織的成員才能簽申根公約
- (B) 成立目的為加強各國外交、司法合作
- (C) 除歐元外，成員國不得使用其它貨幣
- (D) 成員間商品、資金和勞務可自由流通

10. 「甲組織」在 2004 年後加入了許多新的成員，這些新加入的會員國，多半具有下列哪項特色？

- (A) 多位於南歐，滿足歐洲各地資金需求
- (B) 多位於北歐，引領歐洲資訊科技發展
- (C) 多位於東歐，提供歐洲廉價勞力來源
- (D) 多位於西歐，供應歐洲工業所需原料

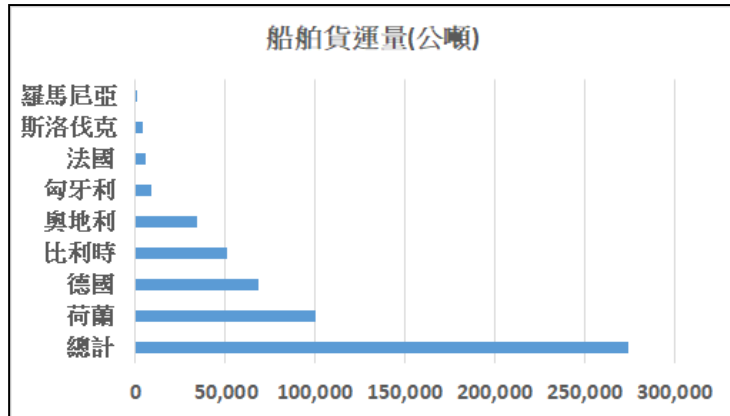
11. 右圖為上地理課時老師補充的圖表，嘉嘉做筆記時忘記寫上圖名。根據圖中資訊，該圖名稱最可能為何？

- (A) 2021 年各洲貿易總額
- (B) 2021 年人口老化概況
- (C) 2021 年各洲總生育率
- (D) 2021 年各洲人口總數



12. 下圖為 2016 年歐洲兩大河流流域內各國與甲港口間的船舶貨運量，兩大河流藉運河連結以提升其航運價值。由表中資訊判斷，可發現其中一條河流的貨運量較大，該河流最可能是？

- (A) 塞納河 (B) 萊茵河 (C) 多瑙河 (D) 聶伯河



13. 承上題，該河流成為歐洲經濟命脈的優勢為何？

- (A) 歐洲最長河，流經國家數量最多  
(B) 發源自歐洲最高山脈，水力豐富  
(C) 途經平原及山地，腹地面積較小  
(D) 流向佳，可接北大西洋國際航線

※下圖為歐洲四大半島，請參考下圖回答第 14~16 題：



14. 「地理大發現」指的是 15~16 世紀時，歐洲各國船隊開始往海上發展，尋找新的貿易路線和貿易夥伴。圖中哪個半島同時瀕臨地中海與大西洋，在海外建立廣大殖民地，成為當時的海上霸主？

- (A) 甲 (B) 乙  
(C) 丙 (D) 丁

15. 右圖為小敏至歐洲某地旅遊時寄給同學的明信片，右下角空白處原有該地地圖。根據圖中資訊判斷，該地圖應為何者？



- (A) 甲 (B) 乙  
(C) 丙 (D) 丁

16. 歐洲某國於 2020 年推出新版護照，內頁融入峽灣、山脈、森林、極光與日出等當地自然景觀；若用紫外光照射，橫跨夜空的極光彩帶會浮現於冰川、冰山上，彷彿美景置身眼前。該國最可能位於圖中哪個半島？

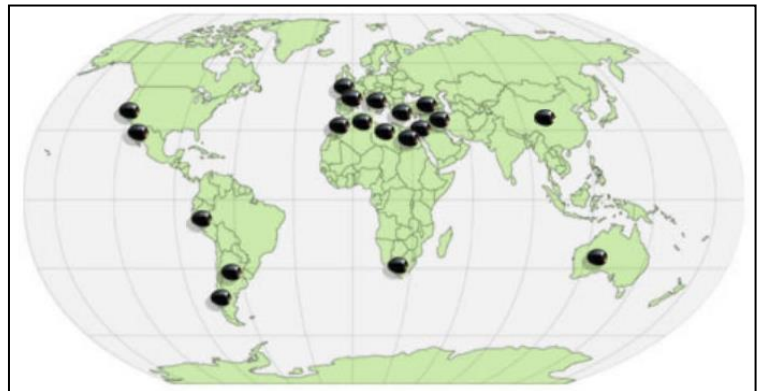
- (A) 甲 (B) 乙 (C) 丙 (D) 丁

17. 歐洲和美國針對俄羅斯出兵烏克蘭祭出嚴厲制裁，然而歐洲在暖氣和發電上極依賴俄羅斯天然氣。德國為降低對俄羅斯的依賴，轉向周邊國家尋求天然氣供應，「甲國」在 2022 年已取代俄羅斯，成為德國最大天然氣供應國。「甲國」最可能是？

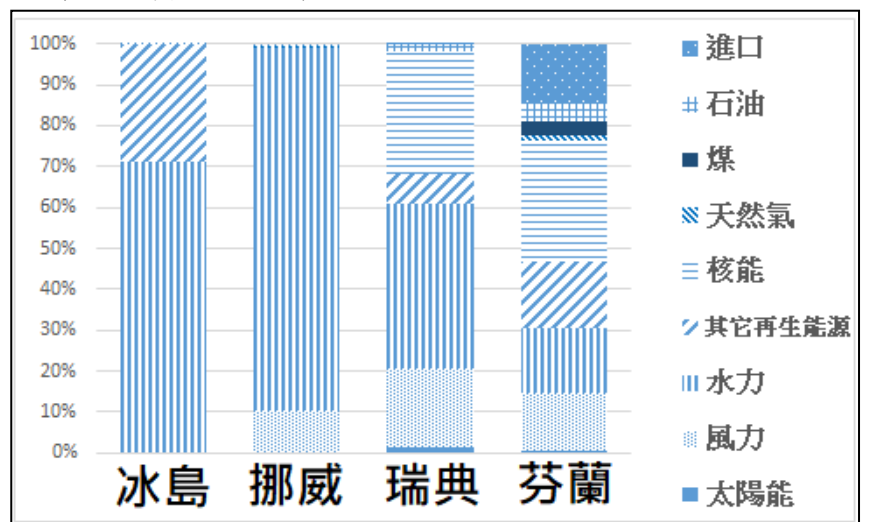
- (A) 挪威 (B) 瑞典 (C) 法國 (D) 波蘭

18. 下圖為某植物分布圖，該植物果實產出的食用油因富含維生素，有「液體黃金」之稱。根據圖中資訊判斷，該植物生長環境具有何種氣候特色？

- (A) 全年有雨秋冬稍多，無明顯乾季  
(B) 冬雨夏乾，年降水量 400~800mm  
(C) 乾燥少雨，年降水量不足 250mm  
(D) 夏雨冬乾，年降水量 1000mm 以上



※下圖為 2022 年北歐各國民生用電來源比例圖，請根據圖中資訊回答第 19~21 題：



19. 冰島的民生用電來源包含水力及其它再生能源，由冰島的自然環境判斷，其它再生能源最可能為何？

- (A) 太陽能 (B) 生質能 (C) 地熱能 (D) 潮汐能

20. 此區具何種自然環境特色，使水力成為北歐多國重要電力來源？

- (A) 有北大西洋暖流流經 (B) 峽灣地形可深入內陸  
(C) 多冰蝕湖地勢落差大 (D) 全年有雨故水量豐沛

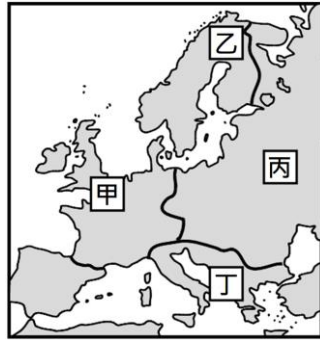
21. 除圖中四國外，丹麥亦致力開發國內的再生能源，國內用電量有近 50% 來自★發電且供電穩定，丹麥希望未來將★發電提升至 80% 以上。考量丹麥的自然環境，★最可能為何種再生能源？

- (A) 風力能 (B) 水力能 (C) 太陽能 (D) 地熱能

22. 南歐的西班牙、義大利等國農業發達，自古就被稱為「歐洲菜園」，加入歐盟後，這裡生產的蔬菜、水果大量外銷西、北歐。相較西、北歐，南歐在農業發展上的優勢為何？

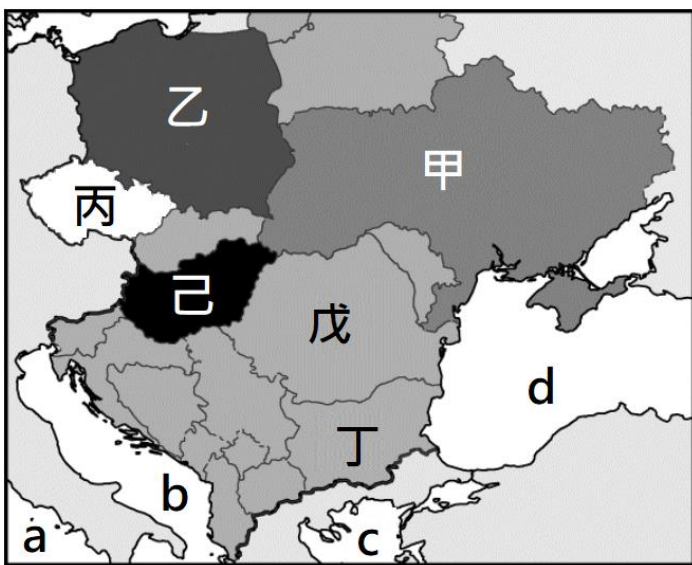
- (A) 灌溉系統發達 (B) 低緯生長季長  
(C) 平原地形廣大 (D) 年降水量較多

23. 英國《經濟學人》雜誌於 1986 年 9 月首度發布「大麥克指數」(並非正式的經濟指數),且每年持續更新。該指數蒐集各國麥當勞「大麥克漢堡」價格,相對該國貨幣匯率做為比較基準,用以衡量該國貨幣相對美元匯價的合理性。因「大麥克漢堡」製作具有標準作業流程,因此,該指數也常被用來比較各國物價水準高低。由上文敘述判斷,圖中何處的「大麥克指數」可能最低?



(A)甲 (B)乙 (C)丙 (D)丁

※下圖為東歐各國分布圖,甲~己代表國家, a~d 代表水域,請參考下圖回答第 24~26 題:



24. 烏克蘭素有「歐洲糧倉」之稱,每年出口的糧食可滿足全球 4 億人的需求,2022 年俄羅斯入侵烏克蘭導致糧食出口量銳減,間接導致全球性通貨膨脹及部分國家的糧食危機。2022 年 7 月由聯合國、俄羅斯、土耳其和烏克蘭四方達成「黑海穀物協議」,該倡議允許經由黑海「海上人道主義走廊」,從烏克蘭的三個主要港口向世界各地出口穀物和其他食品。烏克蘭位於圖中何處?

(A)甲 (B)乙 (C)丁 (D)戊

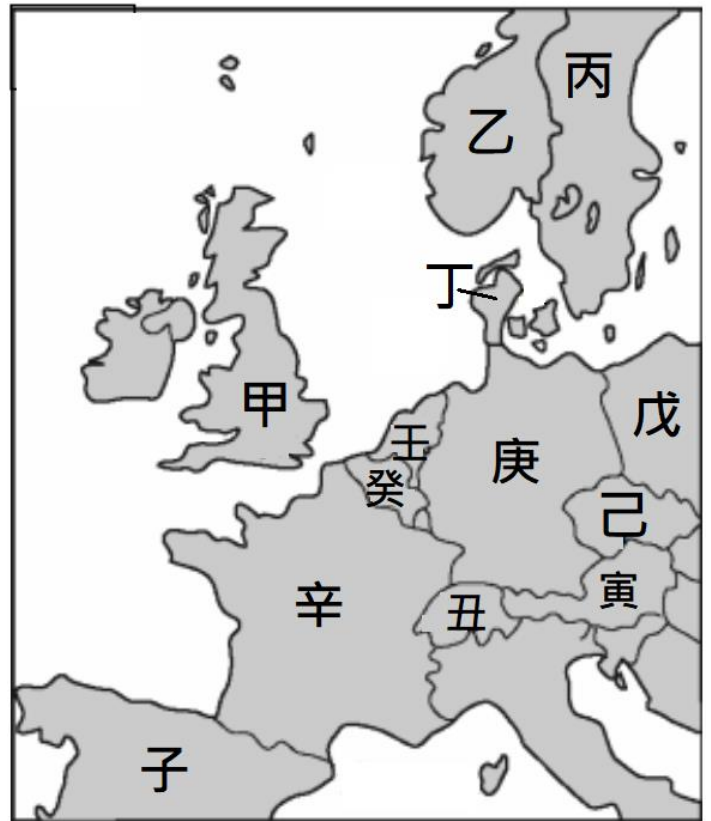
25. 由上題可知烏克蘭的糧食多經由黑海出口,黑海位於圖中何處?

(A)a (B)b (C)c (D)d

26. 某國於計畫經濟時期以軍火工業為主,為工業發展打下良好基礎,加入歐盟後因工業技術佳且工資低廉,被形容為「有德國的水準,沒德國的成本」,加上鄰近市場的優勢,吸引許多外國企業至此設廠。某國指的是?

(A)乙 (B)丙 (C)己 (D)戊

※弘道國中單車隊決定來趟歐洲單車之旅,下圖其規劃路線時使用的歐洲各國分布圖,請參考下圖回答第 27~30 題:



27. 單車隊在「甲國」下飛機開始歐洲單車之旅,下列為單車隊在「甲國」的所見所聞,何者正確?

- (A)盛產煤礦,為工業革命起源,亦有豐富油氣資源
- (B)首都柏林為世界重要金融中心,觀光旅遊亦發達
- (C)搭火車經海底隧道穿越直布羅陀海峽,抵達法國
- (D)緯度高可見永晝景觀,故有「日不落國」的稱號

28. 搭火車離開甲國進入歐洲大陸後,單車隊直奔艾菲爾鐵塔與凱旋門合影留念,第二站來到歐盟總部及歐洲議會,數日後騎乘在風車與鬱金香花海中,第四站抵達 Benz 的故鄉參觀 Benz 博物館。根據上文判斷,單車隊依序行經哪些國家?

- (A)子辛癸壬 (B)辛丑寅己
- (C)辛癸壬庚 (D)癸壬庚戊

29. 接著單車隊來到人魚公主的故鄉,該國因控制波羅的海通往大西洋的水道,航運業發達,有「北歐十字路口」之稱。人魚公主的故鄉位於圖中何處?

- (A)乙 (B)丙 (C)丁 (D)壬

30. 單車隊最後來到乙、丙兩國,下列為單車隊在乙、丙兩國的體驗,哪個隊員「記錯了」?

- (A)游小鵲:此處因地形崎嶇,聯絡不易,故無線通訊產業發達
- (B)楊小珠:峽灣遍佈及暖流流經,帶動乙國航運及漁業的發展
- (C)鄭小茜:豐富鐵礦及針葉林使丙國傢俱、汽車產業聞名全球
- (D)陳小彬:乙國居民利用眾多冰蝕湖,發展出獨特的「芬蘭浴」